



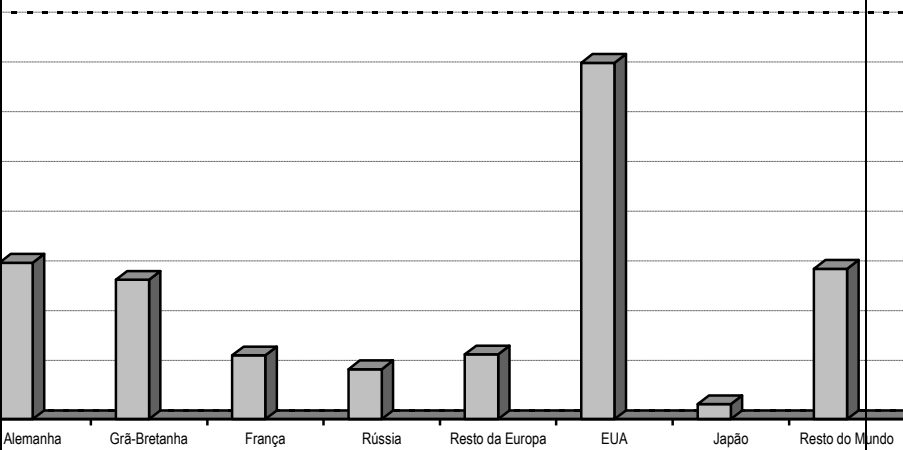
**FICHA DE TRABALHO – 9º ANO**

**Apogeu e declínio da influência europeia**

**Imperialismos e 1ª Guerra Mundial**

<p>Fonte A – As pretensões portuguesas em África</p>	<p>Fonte B – As pretensões inglesas em África</p>
 <p>Mappa d'África – 1886, Sociedade de Geografia</p>	 <p>10 dezembro de 1892</p>

1. Observa as fontes 1 e 2:
  - 1.1. O que pretendia Portugal com o mapa representado na fonte A?
  - 1.2. O que pretendia a Grã-Bretanha segundo a caricatura da fonte B?
  - 1.3. Que problemas provocou o mapa representado na fonte A nas relações entre Portugal e a Grã-Bretanha?
  
2. Lê a fonte C e observa a fonte D.

<p>Fonte C – O imperialismo</p> <p>Grandes ou pequenos, antigos ou recentes, são cinco ou seis países que detêm maior parte da riqueza do Mundo. (...) O seu grande negócio consiste em investir vultuosos capitais nos outros países, retirando daí enormes benefícios. Eles são senhores de terras longínquas, donde lhes vêm os lucros sem precisarem de lá pôr os pés (...) numa palavra: enriquecem com o trabalho dos outros.</p> <p><i>Revista Dois Mundos,</i> 1896</p>	<p>Fonte D – Produção industrial em 1913</p>  <table border="1"> <caption>Produção industrial em 1913 (estimada)</caption> <thead> <tr> <th>País/Região</th> <th>Produção (em unidades relativas)</th> </tr> </thead> <tbody> <tr> <td>Alemanha</td> <td>~18</td> </tr> <tr> <td>Grã-Bretanha</td> <td>~15</td> </tr> <tr> <td>França</td> <td>~8</td> </tr> <tr> <td>Rússia</td> <td>~5</td> </tr> <tr> <td>Resto da Europa</td> <td>~6</td> </tr> <tr> <td>EUA</td> <td>~35</td> </tr> <tr> <td>Japão</td> <td>~2</td> </tr> <tr> <td>Resto do Mundo</td> <td>~12</td> </tr> </tbody> </table>	País/Região	Produção (em unidades relativas)	Alemanha	~18	Grã-Bretanha	~15	França	~8	Rússia	~5	Resto da Europa	~6	EUA	~35	Japão	~2	Resto do Mundo	~12
País/Região	Produção (em unidades relativas)																		
Alemanha	~18																		
Grã-Bretanha	~15																		
França	~8																		
Rússia	~5																		
Resto da Europa	~6																		
EUA	~35																		
Japão	~2																		
Resto do Mundo	~12																		

- 2.1. A que “*terras longínquas*” se refere o autor da fonte C?
- 2.2. Quais são os três países que apresentam maior produção industrial em 1913 (fonte D)?

2.3. Que relação se pode estabelecer entre a produção industrial e o imperialismo europeu (fontes C e D)?


3. Observa o mapa (fonte E)



Fonte E – A Europa em 1914

- 3.1. Marca com a letra A os países que constituíam a Tríplice Aliança.
- 3.2. Marca com a letra B os países que formaram a Tríplice Entente.
- 3.3. Explica porque é que a Europa vivia um clima de paz armada antes de 1914.
- 3.4. Em que país se iniciou a I Guerra Mundial?

4. Lê as fontes F e G.

<p><b>Fonte F – A trincheira</b></p>	<p><b>Fonte G – O tanque de guerra</b></p>
<p>O nosso ataque será precedido e preparado por um bombardeamento formidável, utilizando todos os meios de destruição conhecidos (obuses explosivos, bombas incendiárias, gases asfixiantes, etc.) Só atacaremos depois de a artilharia arrasar tudo. A infantaria sairá então [das trincheiras] (...).</p> <p style="text-align: right;">Estado-Maior britânico, 1916</p>	

- a) Porque é que a I Guerra Mundial durou 4 anos (fonte F)?
- b) Que diferenças existem entre a guerra de movimentos e a guerra de trincheiras (fonte F e G)?
- c) Qual foi a importância do tanque de guerra na I Guerra Mundial (fonte G)?

5. Ordena cronologicamente os seguintes acontecimentos, numerando-os de 1 a 5:

Número	Acontecimento
	Fundação da Sociedade das Nações
	Pedido de armistício pela Alemanha
	Entrada dos Estados Unidos na Guerra
	Invasão da França pela Alemanha
	Tratado de Versalhes

6. Assinala com V as afirmações verdadeiras e com F as falsas. Reescreve correctamente as que consideraste falsas.

- a) O Tratado de Versalhes foi injusto para a Alemanha. \_\_\_\_\_
- b) Os países vencedores da I Guerra Mundial exigiram que a Grã-Bretanha lhes desse territórios e pagasse indemnizações. \_\_\_\_\_
- c) \_\_\_\_\_
- d) Uma das mais importantes consequências da I Guerra Mundial foi a queda dos impérios europeus e o reconhecimento de novos países no mapa político da Europa. \_\_\_\_\_
- e) A SDN tinha como um dos seus objectivos manter a guerra no mundo. \_\_\_\_\_

7. Faz corresponder as informações seguintes às colunas do quadro e depois atribui-lhe um título:

- (A) Cerca de oito milhões de mortos; (B) Diminuição acentuada da produção; (C) Desemprego;  
(D) Diminuição das exportações e aumento das importações; (E) Agitação social; (F) Aumento dos  
preços;  
(G) Destruição de casas, hospitais, fábricas, campos de cultivo vias de comunicação e meios de  
transporte;  
(H) Cerca de seis milhões de inválidos

Título \_\_\_\_\_

Demográficas	Económicas e financeiras	Sociais