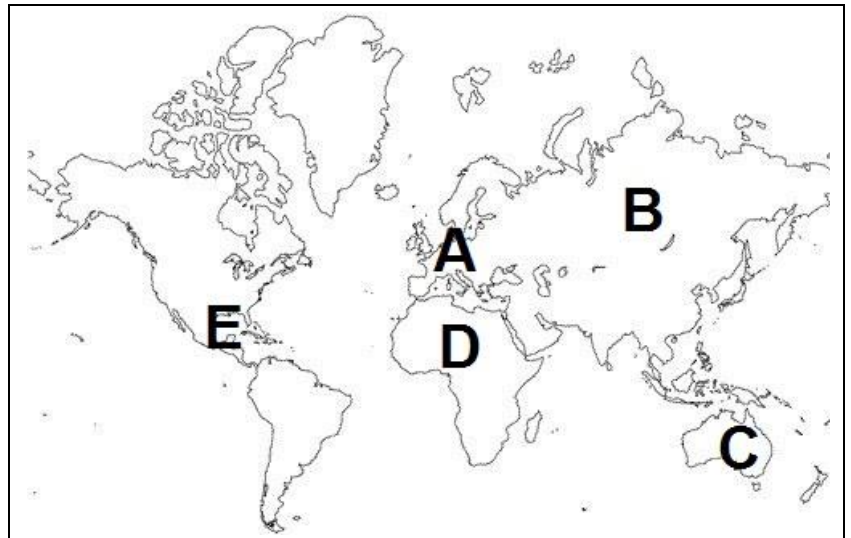


FICHA DE HISTÓRIA – 7º ANO






A evolução do ser humano

1. Observa o mapa e responde:

- 1.1. Faz a legenda do mapa na tua folha de teste.
- 1.2. Assinala, no mapa com uma cruz, o local de aparecimento dos primeiros homínídeos.



2. Ordena, de forma cronológica, as imagens dos homínídeos. Para tal escreve na tua folha de respostas as letras que identificam cada imagem desde o primeiro homínídeo que apareceu até ao último.

A	B	C	D	E
				

3. Explica a importância do bipedismo para a evolução dos seres humanos.