





FICHA DE HISTÓRIA – 7º ANO

O Paleolítico e o Neolítico

1. Observa as fontes 1 a 4:

Fonte 1 - Arpão de osso	Fonte 2 - Pote de cerâmica	Fonte 3 – Biface	Fonte 4 - Mó
			

1.1. Identifica na tua folha de respostas se as afirmações A, B, C e D são verdadeiras ou falsas usando V (verdadeiro) ou F (falso).

- A - O arpão de osso era usado para pescar pelos seres humanos no Paleolítico.
- B – O pote de cerâmica era usado para guardar cereais pelos seres humanos no Paleolítico.
- C - O biface de pedra lascada era usado para caçar pelos seres humanos no Neolítico.
- D - A mó servia para transformar os cereais em farinha pelos seres humanos no Neolítico.

2. Associa os conceitos da coluna A às definições correspondentes na coluna B. Liga apenas uma letra a cada número e escreve essa associação na tua folha de respostas.

Coluna A	Coluna B
(1) Nomadismo	(A) Modo de vida das comunidades que têm necessidade de se deslocar frequentemente à procura de alimento.
(2) Neolítico	(B) Modo de vida em que as comunidades se fixam permanentemente num determinado local.
(3) Economia recoleitora	(C) Tipo de economia em que o ser humano recolhia os seus alimentos da natureza.
(4) Metalurgia	(D) Tipo de economia em que o ser humano produz os seus alimentos através da agricultura e da criação de gado.
	(E) Período em que o ser humano criou instrumentos de pedra lascada.
	(F) Período em que o ser humano criou instrumentos de pedra polida e descobriu a agricultura.
	(G) Técnica de extração e transformação de metais.

3. Apresenta três mudanças na vida dos seres humanos provocadas pela prática da agricultura.


4. Observa a fonte 5 e responde:

4.1. Selecciona a opção que permite completar corretamente a frase seguinte:

O elemento artístico representado na fonte 5 é

- a) uma estatueta de osso.
- b) uma pintura rupestre.
- c) um cromeleque.
- d) um alinhamento.

4.2. Enuncia duas características deste tipo de arte.




5. Observa a fonte 5 e responde:

5.1. Selecciona a opção que permite completar corretamente a frase seguinte:

O monumento representado na fonte 6 é

- a) uma anta.
- b) um menir.
- c) um cromeleque.
- d) um alinhamento.

5.2. Indica a função deste monumento.



Bom trabalho - Mariana Lagarto